





DOPPIO E TRIPLO




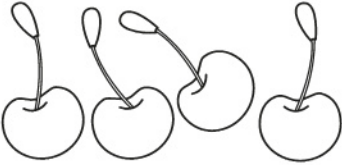
Per trovare il **doppio** di un numero devi **moltiplicare** il numero **per 2**.

1 Osserva e completa con i disegni e i numeri.

QUANTITÀ	DOPPIO	OPERAZIONE
		$2 \times 2 = 4$ Il doppio di 2 è
		$3 \times 2 = \dots\dots$ Il doppio di 3 è
		$\dots\dots \times \dots\dots = \dots\dots$ Il doppio di 4 è

Per trovare il **triplo** di un numero devi **moltiplicare** il numero **per 3**.

2 Osserva e completa con i disegni e i numeri.

QUANTITÀ	TRIPLO	OPERAZIONE
		$2 \times 3 = \dots\dots$ Il triplo di 2 è
		$3 \times 3 = \dots\dots$ Il triplo di 3 è
		$\dots\dots \times \dots\dots = \dots\dots$ Il triplo di 4 è